


1 KROKUJI, VYŘEŠÍM A PŘEPÍŠU.

19		← ←	17	$19 - 2 = 17$
12		← ← ← ←	10	=
3		← ←	5	=
7	→ → →		12	=
20	→ →		19	=
16	← ←		17	=
25	→ → →		26	=



2 VYŘEŠÍM VÝSTAVIŠTĚ. HLEDÁM VÍCE ŘEŠENÍ.

	2	3	











	2	3	


	2	3	

3 VYTVOŘÍM VÝSTAVIŠTĚ.

1 ZAPIŠU IKONAMI.



	<input type="checkbox"/>	<input type="checkbox"/>	Υ
 	<input type="checkbox"/>	$\Upsilon = \triangle \nabla$	
 	<input type="checkbox"/>	$\Upsilon = \circ \circ$	
 	<input type="checkbox"/>	$\Upsilon = \nabla \blacktriangle$	
  	<input type="checkbox"/>	$\Upsilon = \triangle$	
		$\Upsilon = \nabla \nabla$	



2 SPOJÍM K SOBĚ STEJNĚ SILNÁ DRUŽSTVA.