


-  Ráno bylo v lednici 12 jogurtů. Anička odpoledne snědla 2 jogurty a tatínek 1 jogurt. Kolik zbylo v lednici jogurtů?

Znázorni barevně

Vypočítej.....

Napiš odpověď.....


Kdo snědl více jogurtů?

-  Na ulici stálo 11 aut. 3 auta odjela a 2 auta přijela. Kolik aut na ulici zůstalo?

Znázorni barevně

Vypočítej.....

Napiš odpověď.....

-  Před obchodem stály 3 řady po 3 nákupních košících. Kolik bylo před obchodem košíků?

Znázorni barevně

Vypočítej.....


Napiš odpověď.....

Pak noví zákazníci odebrali 2 nákupní košíky. Kolik košíků před obchodem zbylo?

Znázorni barevně

Vypočítej.....

Napiš odpověď.....

-  Na hřišti běhá 9 děvčat. Kluků je o 2 více. Kolik kluků je na hřišti?

Znázorni barevně

Vypočítej.....

Napiš odpověď.....

Kolik je na hřišti celkem dětí?

Znázorni barevně

Vypočítej.....

Napiš odpověď.....