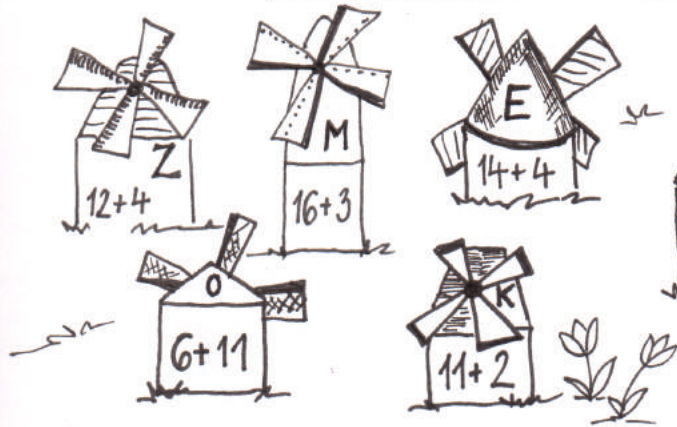
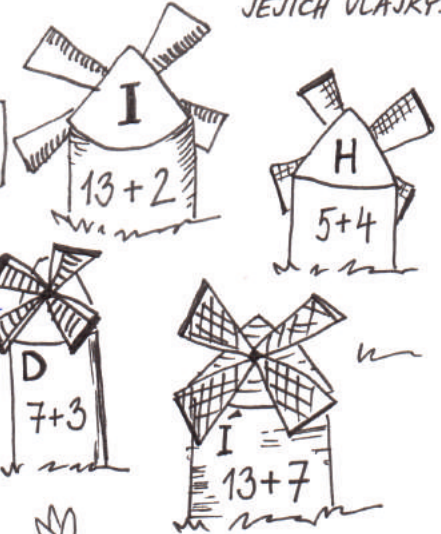




JMĚNO


• VYLUŠTI JMÉNA ZEMÍ. ZAKRESLI JEJICH VLAKKY.

	14	15	16	17	16	18	19	20
--	----	----	----	----	----	----	----	----




	12	14	16	18	20
--	----	----	----	----	----

• ZNÁŠ NĚJAKÉ ZAJÍMAVOSTI O TĚCHTO ZEMÍCH?



	10	11	12	13	14	15	16	13
--	----	----	----	----	----	----	----	----

• NAVŠTÍVIL/A JSI NĚKTEROU Z TĚCHTO ZEMÍ?



# Cestujeme

Výlet pokračuje na sever...



**I.** VYBARVI VLAJKY PODLE TOHO, KTERÉMU STÁTU PATŘÍ. KTERÝ STÁT NEPATŘÍ DO SKANDINÁVIE?



$14 + 3 =$

$10 - 3 =$  FINSKO



$19 - 12 =$

$10 + 2 =$  DAŇSKO



$16 - 4 =$

$20 - 3 =$  NORSKO



$13 + 5 =$

$19 - 4 =$  ŠVÝCARSKO



$11 + 4 =$

$12 + 6 =$  ŠVÉDSKO

**II.** CO PATŘÍ KE KTERÉMU STÁTU? PŘÍKLADY TI POMŮŽOU:

H. CH. ANDERSEN

$18 - 6 =$

A. NOBEL

$15 + 3 =$

FJORDY

$18 - 11 =$

SAUNA

FJORDY

$13 + 4 =$

napadne se ještě něco k jednotlivým státním?

$17 - 2 =$

ČOKOLÁDA