


KOLIK PUNTÍKŮ JE POD KAŇKOU?



VYŘEŠ

$$6 + 4 = \square + 7$$

$$7 + 5 = 10 + \square$$

$$20 - 10 = \square - 4$$

$$13 - \square = 6 - 2$$

$$\square + 9 = 1 + 12$$

$$16 + \square = 9 + 9$$

$$20 - 8 = \square - 5$$

$$19 - \square = 6 + 4$$

$$20 - 5 = \square + 9$$

$$2 + 6 = 16 - \square$$

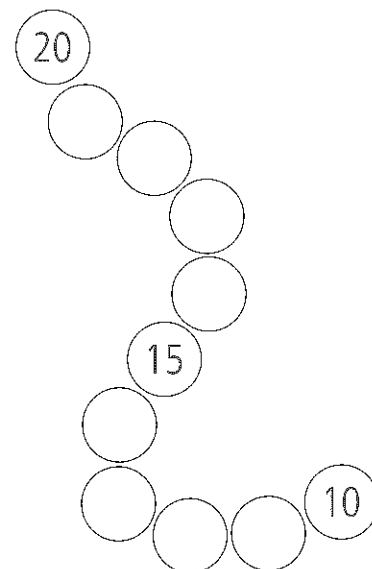
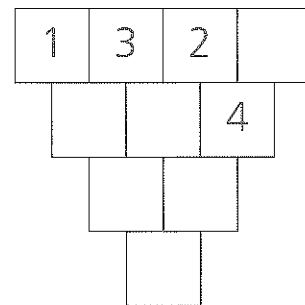
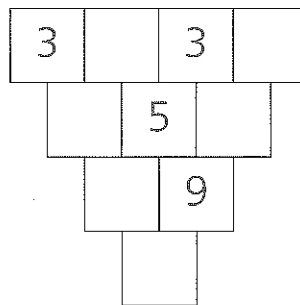
$$10 + 3 = \square - 7$$

$$16 - \square = 0 + 6$$

$$\square - 1 = 8 - 3$$

$$6 + \square = 20 - 9$$

DOPLŇ ČÍSLA



Copyright: © Nakladatelství Fraus, Plzeň 2007

DĚTI ČETLY STEJNOU KNÍŽKU.
 TONDA UŽ PŘEČETL 18 STRÁNEK.
 DAVID PŘEČETL O 7 STRÁNEK MÉNĚ.
 LÍDA PŘEČETLA O 8 STRÁNEK VÍCE
 NEŽ DAVID. JANA PŘEČETLA O 5
 STRÁNEK MÉNĚ NEŽ TONDA.
 KOLIK STRÁNEK PŘEČETLI?

TONDA PŘEČETL _____ STRÁNEK.

DAVID PŘEČETL _____ STRÁNEK.

LÍDA PŘEČETLA _____ STRÁNEK.

JANA PŘEČETLA _____ STRÁNEK.

NEJLEPŠÍ ČTENÁŘ JE _____.

VYPOČÍTEJ

$$18 - 18 = \square$$

$$2 + 10 = \square$$

$$19 - 15 = \square$$

$$9 + 10 = \square$$

$$17 + 3 = \square$$

$$12 - 0 = \square$$

$$18 - 11 = \square$$

$$\square - 6 = 11$$

$$8 + \square = 14$$

$$18 - \square = 9$$

$$\square + 9 = 20$$

$$19 - 17 = \square$$

$$19 - 10 = \square$$

$$\square - 9 = 5$$

$$12 - \square = 12$$

$$12 - \square = 10$$

$$\square + 1 = 12$$

$$8 + 3 = \square$$

Copyright: © Nakladatelství Fraus, Plzeň 2007