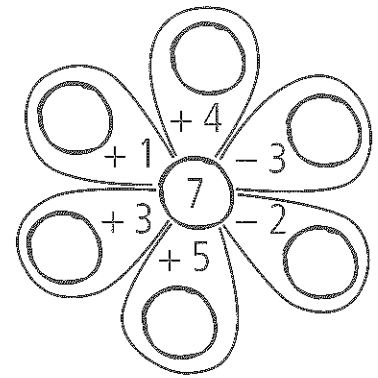


VYBER A DOPLŇ <, >, =

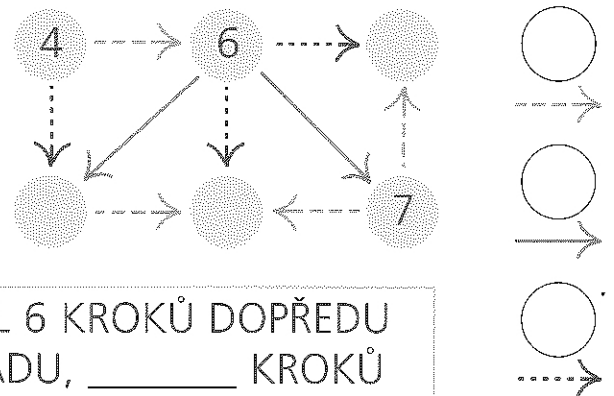
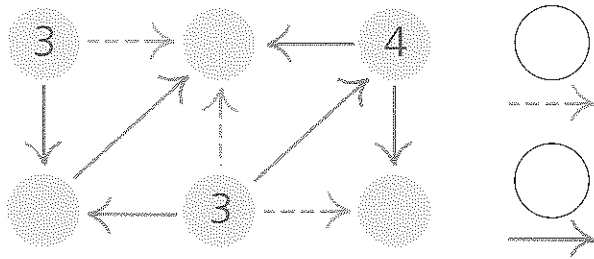
$6 + 7$	<input type="text"/>	$3 + 9$
$20 - 8$	<input type="text"/>	$19 - 6$
$7 + 5$	<input type="text"/>	$20 - 8$
$18 - 7$	<input type="text"/>	$4 + 9$

$14 - 5$	<input type="text"/>	$4 + 6$
$6 + 7$	<input type="text"/>	$20 - 7$
$9 + 9$	<input type="text"/>	$5 + 12$
$17 - 10$	<input type="text"/>	$18 - 9$

VYPOČÍTEJ



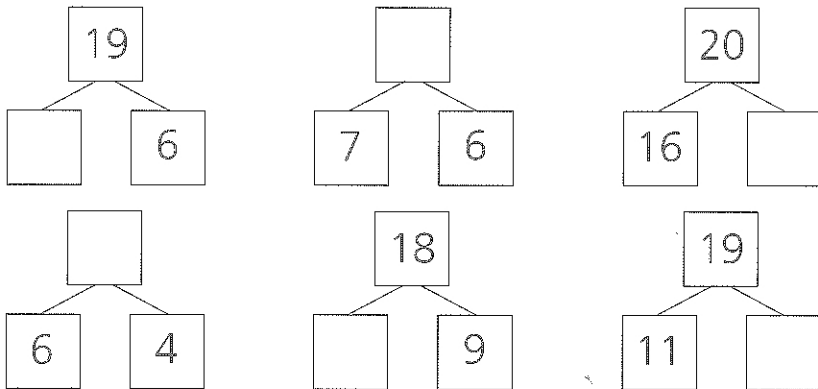
DOPLŇ ČÍSLA DO KOLEČEK A K ŠÍPKÁM



✿ OTA A TOM STOJÍ VEDLE SEBE. OTA UDĚLAL 6 KROKŮ DOPŘEDU A 2 DOZADU. TOM UDĚLAL 5 KROKŮ DOZADU, _____ KROKŮ DOPŘEDU A STÁLI ZASE VEDLE SEBE.

Copyright: © Nakladatelství Fraus, Plzeň 2007

DOPLŇ ČÍSLA




? MYSLEL JSEM SI ČÍSLO, K NĚMU JSEM PŘIČETL 3 A TEĎ MÁM ČÍSLO 9. KTERÉ ČÍSLO JSEM SI MYSLEL?

VYPOČÍTEJ

$4 + 6 + 8 =$	<input type="text"/>	$20 - 6 - 6 =$	<input type="text"/>
$11 + 3 + 5 =$	<input type="text"/>	$20 - 4 - 9 =$	<input type="text"/>
$9 + 0 + 7 =$	<input type="text"/>	$19 - 10 - 3 =$	<input type="text"/>

SPOJ TŘI ČÍSLA A VYTVOŘ 11

$11 =$	<input type="text"/>	$+$	<input type="text"/>	$+$	<input type="text"/>
$11 =$	<input type="text"/>	$+$	<input type="text"/>	$+$	<input type="text"/>
$11 =$	<input type="text"/>	$+$	<input type="text"/>	$+$	<input type="text"/>
$11 =$	<input type="text"/>	$+$	<input type="text"/>	$+$	<input type="text"/>



Copyright: © Nakladatelství Fraus, Plzeň 2007