





NAKUP V OBCHODE. JAKÝMI MINCEMI JSI ZAPLATIL?

	1	2	5	10	
					②②②②② = 10Kč
					
					
					

KLUCI DOSTALI OD BABIČKY 20Kč. KAŽDÝ SI NĚCO KOUPII. KOLIK JIM ZBYLO?

ALEŠ	20Kč	AUTO 10Kč	ZBYLO
CYRIL	20Kč	BUBINEK 15Kč	ZBYLO
DAVID	20Kč	TRAKTÓREK 13Kč	ZBYLO

LUKÁŠ SI KOUPII AUTÍČKO ZA 12Kč. AJA ZMRZLINU ZA 7Kč. KAŽDÝ Z NICH ZAPLATIL DVACETIKORUNOU. KOLIK DOSTALI NAZPĚT? A JAKÉ MINCE MOHLI DOSTAT?

LUKÁŠ DOSTAL NAZPĚT \_\_\_\_\_ Kč.

AJA DOSTALA NAZPĚT \_\_\_\_\_ Kč.

