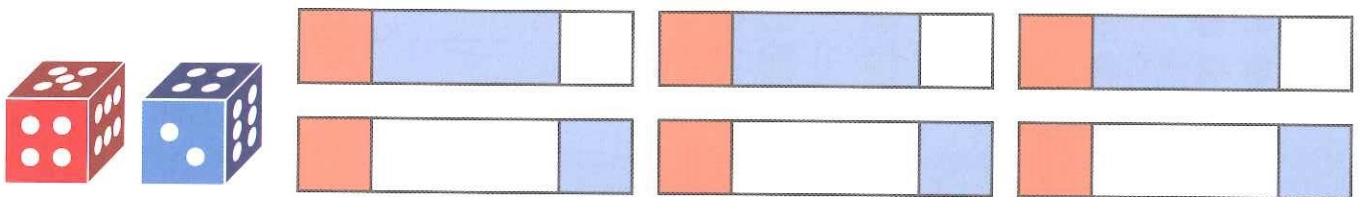


5 DOPLNÍM ČÍSLO.


Maminka přidala pod ubrousek 2 koláče.

Teď je tam 10 koláčů. Pod ubrouskem bylo dříve \_\_\_\_\_ koláčů.


6 HODÍM KOSTKY A VYŘEŠÍM.



7 VRÁTÍM ČÍSLA NEPOSEDY ZPĚT.





8 VYTVOŘÍM STAVBU ZE 6  A ZAPIŠU JI.



Jak se rozdělíme?

9 HRA.



VLASTNÍ

8. Vytvoř stavbu z 8 krychlí a zapiš ji. Hledej další řešení se čtvercovým plánem.

VYMYSLTE  
A  
POŠLETE