

VYPOČÍTEJ

$6 + 3 = \square$

$8 - 2 = \square$

$4 + 5 = \square$

$3 + \square = 7$

$5 - \square = 4$

$6 + \square = 7$

$\square + 5 = 10$

$\square - 4 = 2$

$\square + 3 = 3$

$5 + 4 = \square$

$10 - 5 = \square$

$11 - 2 = \square$

$4 + \square = 8$

$8 - \square = 1$

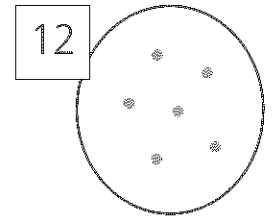
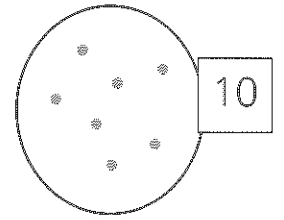
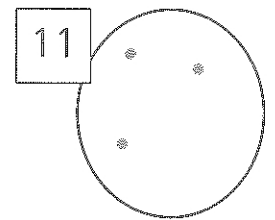
$9 - \square = 6$

$\square + 7 = 9$

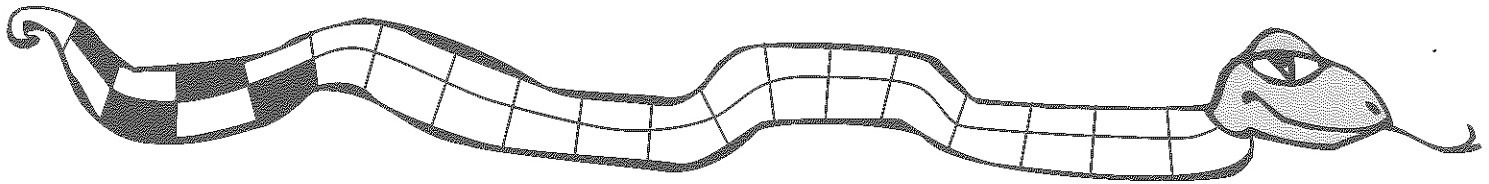
$\square - 3 = 7$

$\square - 4 = 0$

DOKRESLI



POKRAČUJ



Copyright: © Nakladatelství Fraus, Plzeň 2007

ŠKRTNI, KDE JE CHYBA, ZMĚŇ
JEDNO ČÍSLO A PŘEPIŠ SPRÁVNĚ

$8 > 10$ _____

$9 < 7$ _____

$7 = 7$ _____

$9 > 10$ _____


$6 > 5$ _____

$0 > 0$ _____

$6 < 9$ _____

$12 < 11$ _____

POKRAČUJ



106



LÍDA MÁ 4 PANENKY.
JANA MÁ 6 PANENEK.
KOLIK PANENEK MAJÍ
DOHROMADY?



DOHROMADY MAJÍ _____ PANENEK.

KDO MÁ MĚNĚ?
MĚNĚ MÁ _____ .

O KOLIK?
MÁ MĚNĚ O _____ .

Copyright: © Nakladatelství Fraus, Plzeň 2007