

11											
----	--	--	--	--	--	--	--	--	--	--	--

10	11										
----	----	--	--	--	--	--	--	--	--	--	--



JANA MÁ 2 MÍČE.  
PEPA MÁ 1 MÍČ.  
KOLIK MÍČŮ MAJÍ DOHROMADY?



DOHROMADY MAJÍ \_\_\_\_\_ MÍČE.

KDO MÁ VÍCE?

VÍCE MÁ \_\_\_\_\_ .

ÁLA MÁ 3 BONBÓNY.  
MÍLA MÁ 5 BONBÓNŮ.  
KOLIK BONBÓNŮ MAJÍ DOHROMADY?

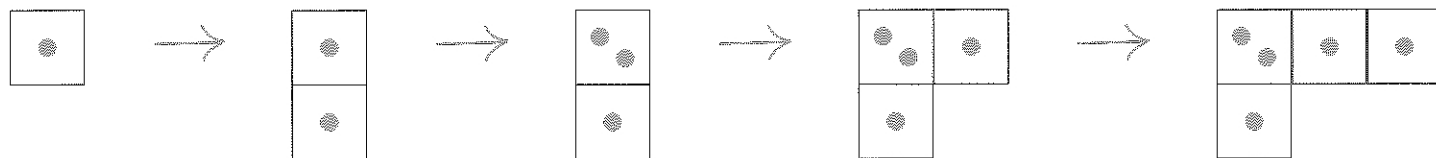


DOHROMADY MAJÍ \_\_\_\_\_ BONBÓNŮ.

KDO MÁ VÍCE?

VÍCE MÁ \_\_\_\_\_ .

VYTVOŘ STAVBU PODLE PLÁNU



Copyright: © Nakladatelství Fraus, Plzeň 2007

12											
----	--	--	--	--	--	--	--	--	--	--	--

10	11	12									
----	----	----	--	--	--	--	--	--	--	--	--

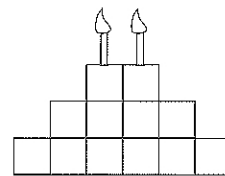
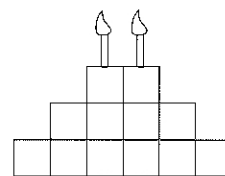


ALEŠ MÁ 2 MEDVĚDY.  
DAN MÁ 3 MEDVĚDY.  
KOLIK MEDVĚDŮ MAJÍ DOHROMADY?

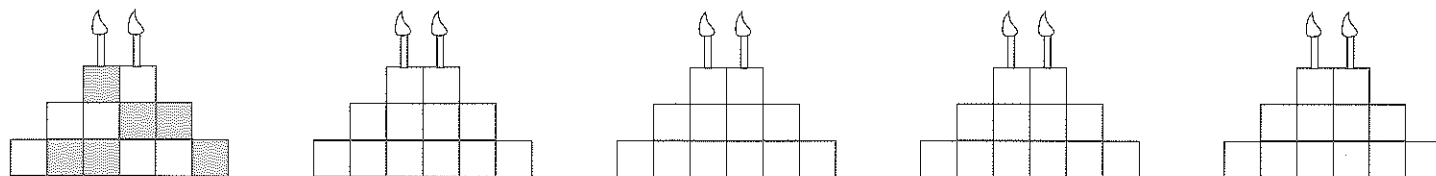
MAJÍ DOHROMADY \_\_\_\_\_ MEDVĚDŮ.

KDO MÁ VÍCE?

VÍCE MÁ \_\_\_\_\_ .



VYBARVI 6, HLEDEJ DALŠÍ MOŽNOSTI



Copyright: © Nakladatelství Fraus, Plzeň 2007